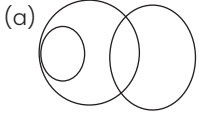


अभ्यास 8B

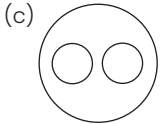
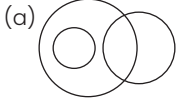
For SSC CHSL Exam

निर्देश: वह वेन आरेख चुनें जो निम्न श्रेणियों के बीच के संबंध का सबसे अच्छा निरूपण करता है

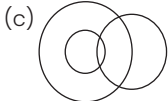
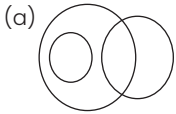
1. वकील, वास्तुकार, मनुष्य



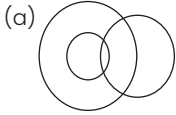
2. चिटियाँ, तितलियाँ, कीड़े



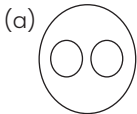
3. ऊन, लकड़ी, चमड़ा



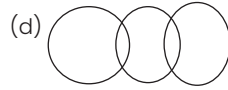
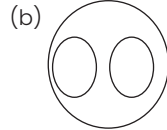
4. फूल, गुलाब, पीला



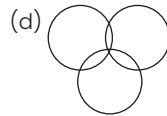
5. पार्स, थीटा, चिन्ह



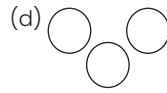
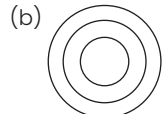
SSC CHSL 11/07/2019 (Shift-3)



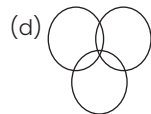
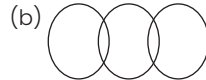
SSC CHSL 11/07/2019 (Shift-2)



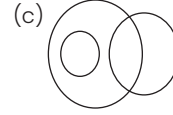
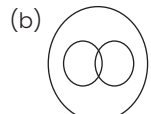
SSC CHSL 10/07/2019 (Shift-3)



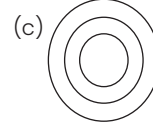
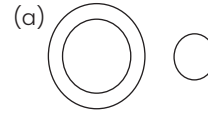
SSC CHSL 10/07/2019 (Shift-2)



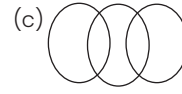
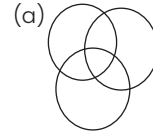
SSC CHSL 10/07/2019 (Shift-1)



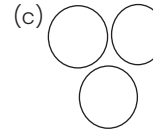
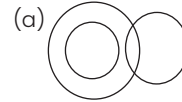
6. हृदय, शरीर, घर



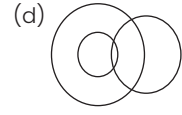
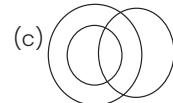
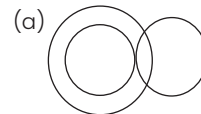
7. अभियन्ता, स्नातक, पुरुष



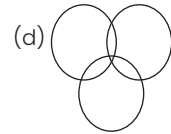
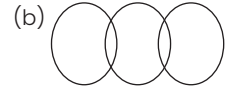
8. भोजन, मसूर की दाल, दालें



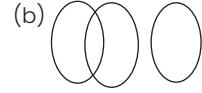
9. मोबाइल फोन, इलेक्ट्रॉनिक उपकरण, लैपटॉप



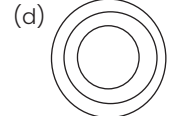
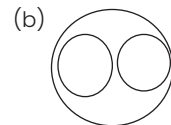
SSC CHSL 09/07/2019 (Shift-2)



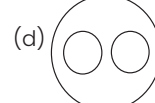
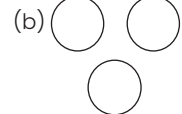
SSC CHSL 09/07/2019 (Shift-1)



SSC CHSL 08/07/2019 (Shift-3)

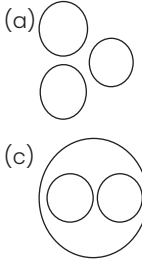


SSC CHSL 08/07/2019 (Shift-1)

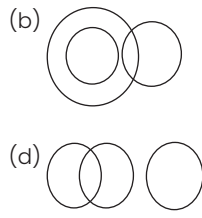


2 ■ SSC रीजनिंग

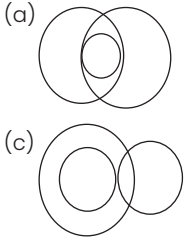
10. धातु, लोहा, पारा



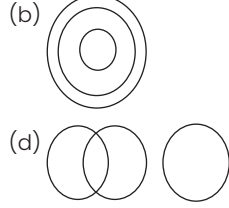
SSC CHSL 05/07/2019 (Shift-3)



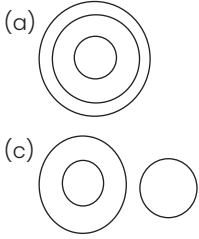
11. आम, खाद्य पदार्थ, तरल



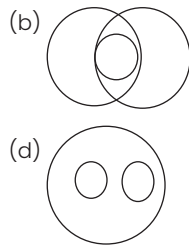
SSC CHSL 05/07/2019 (Shift-2)



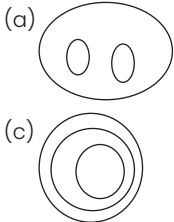
12. ईंधन, डीजल, तरल



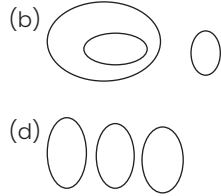
SSC CHSL 05/07/2019 (Shift-1)



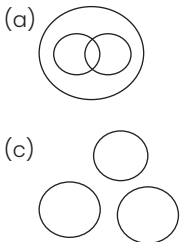
13. चाँद, शुक्र, ब्रह्मांड



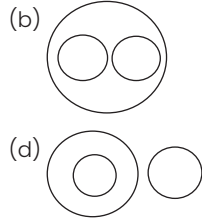
SSC CHSL 04/07/2019 (Shift-3)



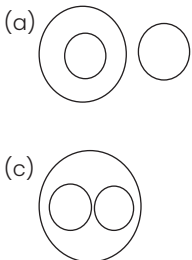
14. सिक्किम, मणिपुर, इम्फाल



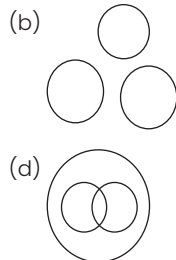
SSC CHSL 04/07/2019 (Shift-2)



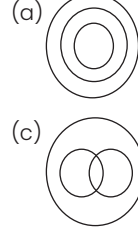
15. खीरा, मसालें, खाना



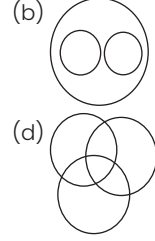
SSC CHSL 04/07/2019 (Shift-1)



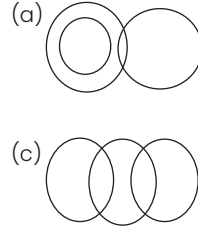
16. औरतें, बहनें, माताएं



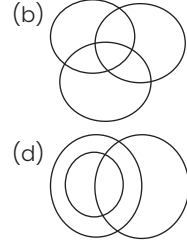
SSC CHSL 03/07/2019 (Shift-3)



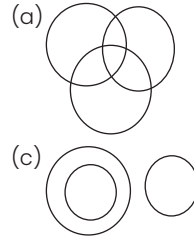
17. पुरुष, खिलाड़ी, पिता



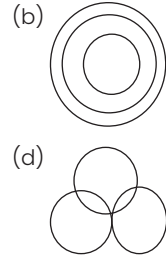
SSC CHSL 03/07/2019 (Shift-2)



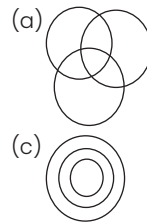
18. प्रवक्ता, गायक, पुरुष



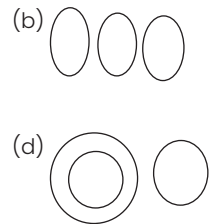
SSC CHSL 03/07/2019 (Shift-1)



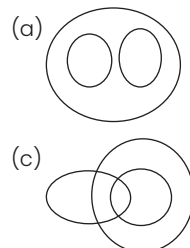
19. नर्सों, डॉक्टर, फार्मासिस्ट



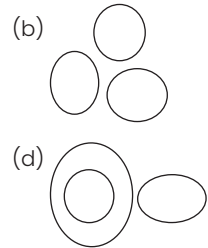
SSC CHSL 02/07/2019 (Shift-3)



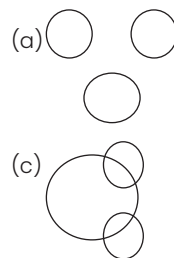
20. माताएँ, महिलाएँ, पायलर



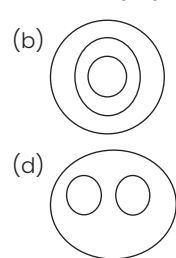
SSC CHSL 02/07/2019 (Shift-2)



21. कच्चा माल, मजदूर, मशीनें

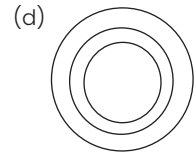
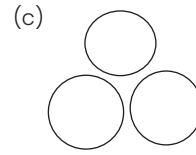
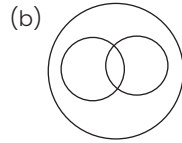
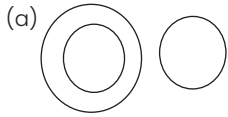


SSC CHSL 02/07/2019 (Shift-1)



22. आलस्य, चिंता, शक्ति


SSC CHSL 01/07/2019 (Shift-3)



हल

1. (b) प्रश्नानुसार,

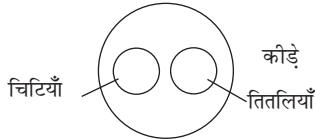
वकील, वास्तुकार, मनुष्य



अतः विकल्प (b) सही है।

2. (c) प्रश्नानुसार,

चिटियाँ, तितलियाँ, किट



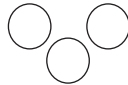
चिटियाँ और तितलियाँ कीड़े की श्रेणी में आती है

अतः विकल्प (c) सही है

3. (d) प्रश्नानुसार,

ऊन, लकड़ी, चमड़ा

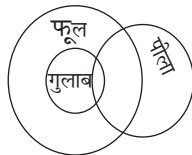
इनमें आपस में कोई सम्बंध नहीं है



अतः विकल्प (d) सही है

4. (a) प्रश्नानुसार,

फूल, गुलाब, पीला



गुलाब फूल है और कुछ फूल और गुलाब पिले हो सकते हैं

अतः विकल्प (a) सही है

5. (a) प्रश्नानुसार,

पाई, थीटा, चिन्ह

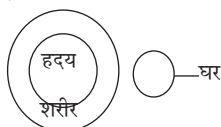


पाई और थीटा गणितीय चिन्ह है

अतः विकल्प (a) सही है

6. (a) प्रश्नानुसार,

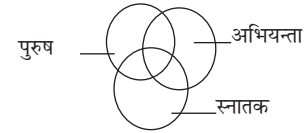
हृदय, शरीर, घर



अतः विकल्प (a) सही है

7. (a) प्रश्नानुसार,

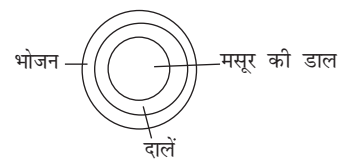
स्नातक, अभियन्ता, पुरुष



कुछ पुरुष अभियन्ता के साथ स्नातक भी है।

8. (d) प्रश्नानुसार,

मसूर की डाल, दालें, भोजन

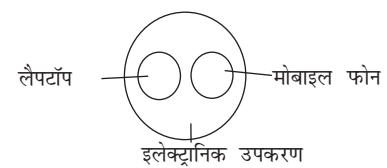


मसूर की डाल $\xrightarrow{\text{प्रकार है}}$ दालें $\xrightarrow{\text{प्रकार है}}$ भोजन

अतः विकल्प (d) सही है

9. (d) प्रश्नानुसार,

मोबाइल फोन, इलेक्ट्रॉनिक उपकरण, लैपटॉप

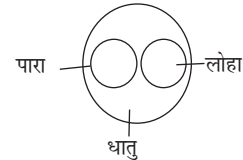


लैपटॉप और मोबाइल फोन इलेक्ट्रॉनिक उपकरण है

अतः विकल्प (d) सही है

10. (c) प्रश्नानुसार,

धातु, लोहा, पारा

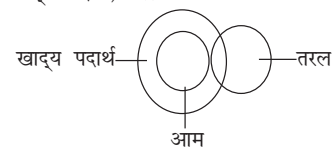


पारा और लोहा धातु है

अतः विकल्प (c) सही है

11. (c) प्रश्नानुसार,

आम, खाद्य पदार्थ, तरल



4 ■ SSC रीजनिंग

अतः विकल्प (c) सही है

12. (b) प्रश्नानुसार,
ईंधन, डीजल, तरल



अतः विकल्प (b) सही हैं

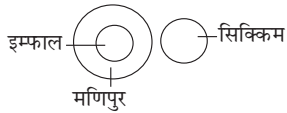
13. (a) प्रश्नानुसार,
चाँद, शुक्र, ब्रहमांड



शुक्र और चाँद ब्रहमांड में स्थित है

अतः विकल्प (a) सही हैं

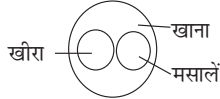
14. (d) प्रश्नानुसार,
सिक्किम, मणिपुर, इम्फाल



सिक्किम और मणिपुर राज्य है तथा इम्फाल मणिपुर की राजधानी है

अतः विकल्प (d) सही है

15. (c) प्रश्नानुसार,
खीरा, मसालें, खाना



खीरा और मसालें खाने का भाग है

अतः विकल्प (c) सही है

16. (c) प्रश्नानुसार,
औरतें, बहनें, माताएं



अतः विकल्प (c) सही है

17. (d) प्रश्नानुसार,
पुरुष, खिलाड़ी, पिता




सभी पिता आदमी है

कुछ पिता और आदमी खिलाड़ी हो सकते है

अतः विकल्प (d) सही है

18. (a) प्रश्नानुसार,
प्रवक्ता, गायक, पुरुष



अतः विकल्प (a) सही है

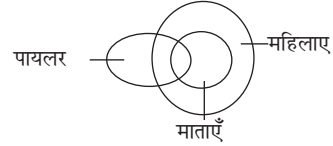
19. (b) प्रश्नानुसार,
नर्स, डॉक्टर, फार्मासिस्ट



डॉक्टर फार्मासिस्ट व नर्स, के बीच कोई सम्बंध नहीं है

अतः विकल्प (b) सही है

20. (c) प्रश्नानुसार,
माताएं, महिलाएं, पायलर



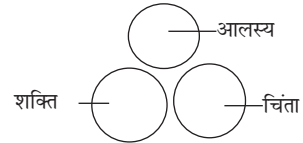
अतः विकल्प (b) सही है

21. (a) प्रश्नानुसार,
कच्चा माल, मजदुर, मशीन
कच्चा माल — मजदुर
मशीन

आपस में कोई सम्बंध नहीं है

अतः विकल्प (a) सही है

22. (c) प्रश्नानुसार,
आलस्य, चिंता, शक्ति



शक्ति, चिंता, आलस्य विभिन्न मानवीय भावना है

अतः विकल्प (c) सही है

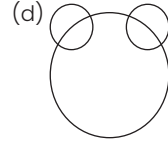
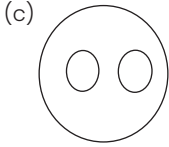
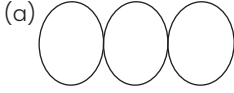
अभ्यास 8C

For SSC CGL and CPO Exams

निर्देश (1 से 11) उस वन आरेख को चुनिए जो तीनों वर्गों के बीच सर्वश्रेष्ठ संबंध दर्शाता है

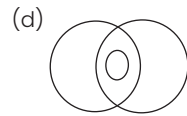
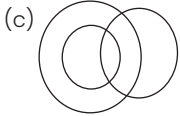
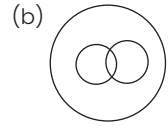
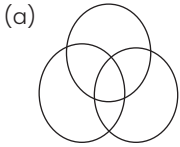
1. फल, सब्जी, सेब

SSC CGL 13/06/2019 (Shift-3)



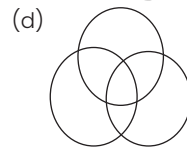
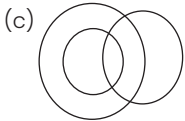
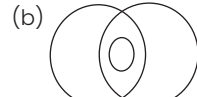
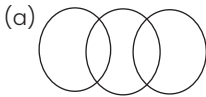
2. भारतीयों, महिलाओं, भतदाताओं

SSC CGL 10/06/2019 (Shift-1)



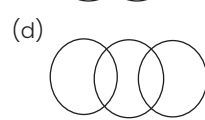
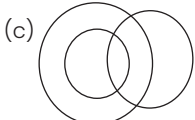
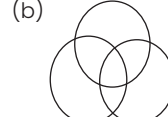
3. ग्रामीणों, गरीब, व्यक्तियों, पुरुषों

SSC CGL 07/06/2019(Shift-3)



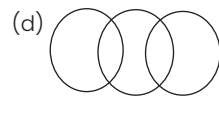
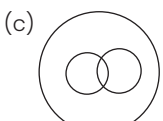
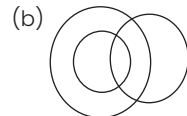
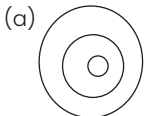
4. स्नातक, अध्यापक, साक्षर

SSC CGL 07/06/2019(Shift-2)



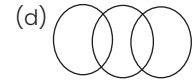
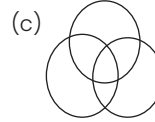
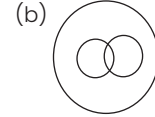
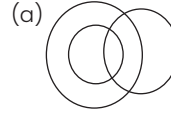
5. मगरमच्छ, जलिय जंतु, सरीसृप

SSC CGL 07/06/2019 (Shift-1)



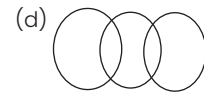
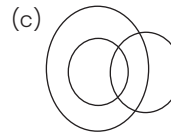
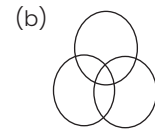
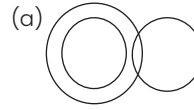
6. महिलाएँ, उद्यमी, इंजीनियर

SSC CGL 06/06/2019(Shift-3)



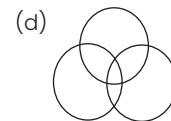
7. डॉक्टर, वेतनभोगी, माता-पिता

SSC CGL 06/06/2019 (Shift-2)



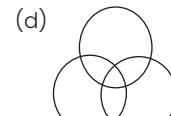
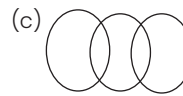
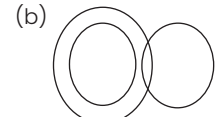
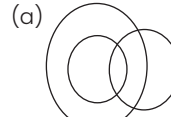
8. सांप, सरीसृप, जहरीले

SSC CGL 06/06/2019 (Shift-1)



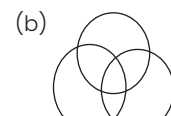
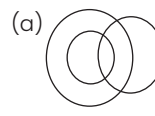
9. स्नातक, साक्षर, मेहनती

SSC CGL 04/06/2019 (Shift-3)



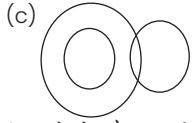
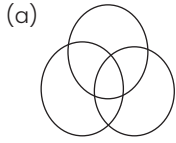
10. माता-पिता, अमीर व्यक्ति, किसान

SSC CGL 04/06/2019 (Shift-2)

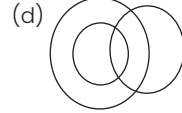
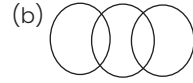


6 ■ SSC रीजनिंग

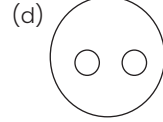
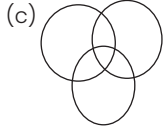
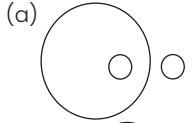
11. चाचा, रिश्तेदार, धनी



SSC CGL 04/06/2019 (Shift-1)

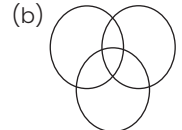
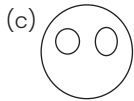
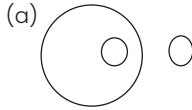


12. निम्न में से कौन – सी एक आकृति प्याला, मेज और क्राकरी में सम्बंध दर्शाती है



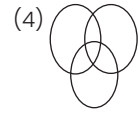
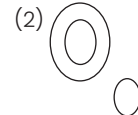
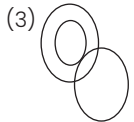
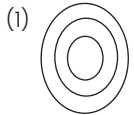
SSC CGL 11/06/2019 (Shift-2)

13. निम्न में से कौन – सी एक आकृति गेहूँ सरसो तथा गोभी में सम्बंध दर्शाती है



SSC CGL 11/06/2019 (Shift-1)

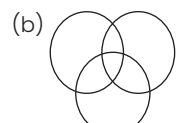
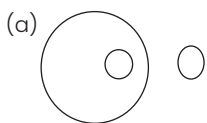
14. निम्न में से कौन – सा एक आरेख खिलाड़ियों, गायकों और विद्यार्थियों में संबंध दर्शाता है



SSC CGL 10/06/2019 (Shift-3)

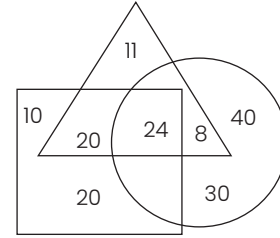
(a)1 (b)2 (c)3 (d)4

15. निम्न में से कौन – सा एक आरेख विद्यार्थियों, अध्यापकों तथा स्कूलों में संबंध दर्शाता है।



SSC CGL 10/06/2019 (Shift-2)

16. नीचे दिए गए वेन आरेख में त्रिभुज 'विद्यार्थियों' का प्रतिनिधित्व करता है वृत्त डिप्लोमा धारकों का प्रतिनिधित्व करता है और चतुर्भुज 'स्नातकों' का प्रतिनिधित्व करता है आरेख में दी गई संख्याएँ उस श्रेणी-विशिष्ट में व्यक्तियों की संख्या का प्रतिनिधित्व करती है

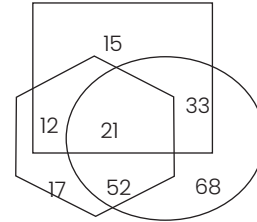


कितने विद्यार्थी डिप्लोमा धारक है लेकिन स्नातक नहीं

SSC CGL 13/06/2019 (Shift-2)

(a)8 (b)11 (c)40 (d)30

17. दिए गए वेन आरेख में, षटभुज 'किसानों को दर्शाता है वृत्त', 'लाभार्थियों को दर्शाता है और वर्ग 'भूमि मालिकों' को दर्शाता है आरेख में दी गई संख्याएँ उस श्रेणी विशेष के व्यक्तियों की संख्या को दर्शाती है

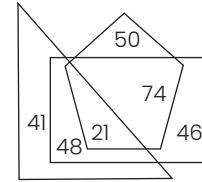


कितने किसान, भूमि मालिक और लाभार्थी दोनों है?

SSC CGL 13/06/2019 (Shift-1)

(a)21 (b)55 (c)12 (d)52

18. दिए गए वेन आरेख में, आयत 'महिलाओं' को दर्शाता है, पंचभुज 'उद्यमी' को दर्शाता है और त्रिभुज 'माताओं' को दर्शाता है। आरेख में दी गई संख्याएँ उस श्रेणी विशेष के व्यक्तियों की संख्या को दर्शाती है।



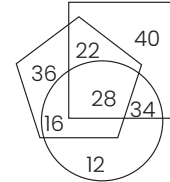
कितनी महिलाएँ उद्यमी है परंतु माताएँ नहीं है ?

SSC CGL 12/06/2019 (Shift-3)

(a)21 (b)74 (c)50 (d)46

19. नीचे दिए गए वेन आरेख में पंचभुज क्रिकेटर्स का प्रतिनिधित्व करता है' वर्ग 'शतरंज खिलाड़ियों' का प्रतिनिधित्व करता है और वृत्त क्लर्कों का प्रतिनिधित्व करता है। आरेख में दी गई संख्याएँ उस श्रेणी विशिष्ट में व्यक्तियों की संख्या का प्रतिनिधित्व करती है।

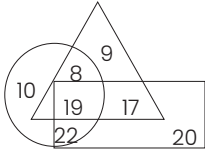
SSC CGL 12/06/2019 (Shift-2)



कितने क्रिकेटर शतरंज खिलाड़ी तो है लेकिन क्लर्म नहीं है?

(a)22 (b)34 (c)40 (d)36

20. नीचे दिए गए वेन आरेख में वृत्त, 'व्यापारियों' का प्रतिनिधित्व करता है त्रिभुज 'मकान मालिकों' का प्रतिनिधित्व करता है और आयत 'आयक दाताओं' का प्रतिनिधित्व करता है आरेख में दी गई संख्याएँ उस श्रेणी विशिष्ट में व्यक्तियों की संख्या का प्रतिनिधित्व करती है।



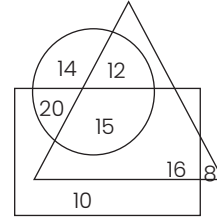
कितने व्यापारि कर दाता तो है लेकिन मकान मालिक नहीं है

SSC CGL 12-06-2019 (Shift-1)

- (a) 8 (b) 22 (c) 17 (d) 19

2. नीचे दिए गए वेन आरेख में वृत्त 'महिलाओं' का प्रतिनिधित्व करता है त्रिभुज 'कांस्टेबल' का प्रतिनिधित्व करता है और वर्ग 'विवाहित लोगों' का प्रतिनिधित्व करता है। आरेख में दी गई संख्याएं उस श्रेणी

विशिष्ट में व्यक्तियों की संख्या का प्रतिनिधित्व करती है कितनी महिला कांस्टेबल विवाहित नहीं है।



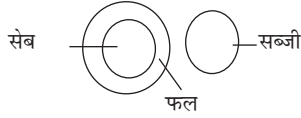
SSC CGL 11-06-2019 (Shift-3)

- (a) 15 (b) 8 (c) 12 (d) 14

हल

1. (b) प्रश्नानुसार,

फल, सब्जी, सेब

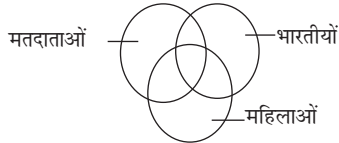


अतः विकल्प (b) सही है

2. (a) प्रश्नानुसार,

भारतीयों, महिलाओं, मतदाताओं

न्यूनतम सम्भववेन आरेख

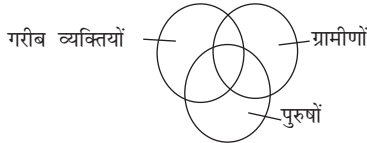


अतः विकल्प (a) सही है

3. (d) प्रश्नानुसार,

ग्रामीणों, गरीब व्यक्तियों, पुरुषों

सम्भवत वेन आरेख,



अतः विकल्प (d) सही है

4. (a) प्रश्नानुसार,

स्नातक, अध्यापक, साक्षर

सम्भवत वेन आरेख है,



अतः विकल्प (a) सही है

5. (c) प्रश्नानुसार,

मगरमच्छ, जलीय जन्तु, सरीसृप

न्यूनतम सम्भववेन आरेख

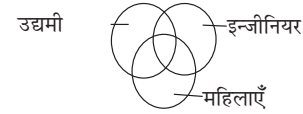


अतः विकल्प (c) सही है

6. (c) प्रश्नानुसार,

महिलाएँ, उद्यमी, इंजीनियर

न्यूनतम सम्भववेन आरेख

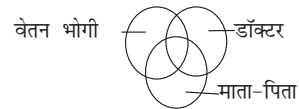


अतः विकल्प (c) सही है

7. (b) प्रश्नानुसार,

डॉक्टर, वेतन भोगी, माता-पिता

न्यूनतम सम्भववेन आरेख



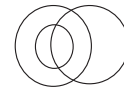
एक दूसरे के बीच संबंध

अतः विकल्प (b) सही है

8. (a) प्रश्नानुसार,

सांप, सरीसृप, जहरीलें

न्यूनतम सम्भववेन आरेख



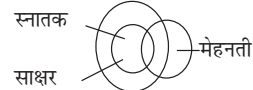
कुछ सांप जहरीलें हैं और सभी सांप सरीसृप हैं

अतः विकल्प (a) सही है

9. (a) प्रश्नानुसार,

स्नातक, साक्षर, मेहनती

न्यूनतम सम्भववेन आरेख



अतः विकल्प (a) सही है

10. (b) प्रश्नानुसार,

माता-पिता, अमीर व्यक्ति, किसान

न्यूनतम सम्भववेन आरेख



अतः विकल्प (b) सही है

8 ■ SSC रीजनिंग

11. (d) प्रश्नानुसार,

चाचा, रिश्तेदार, धनी।
उपयुक्त वेन आरेख



अतः विकल्प (d) सही है

12. (a) प्रश्नानुसार,

प्याला, मेज, क्राकरी
उपयुक्त आरेख प्याला मेज और क्राकरी दर्शाता है



अतः विकल्प (a) सही है

13. (d) प्रश्नानुसार,

गेहूँ, सरसों और गोभी



गोभी → सब्जी

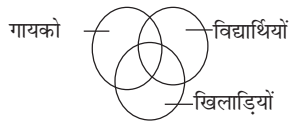
सरसों → फसल

गेहूँ → अनाज

अतः विकल्प (d) सही है

14. (d) प्रश्नानुसार,

खिलाड़ियों, गायको और विद्यार्थियों



अतः विकल्प (d) सही है

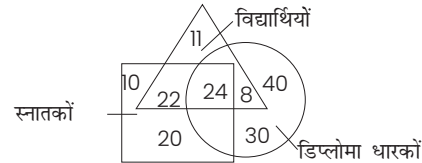
15. (d) प्रश्नानुसार,

विद्यार्थी, अध्यापक, स्कूल



अतः विकल्प (d) सही है

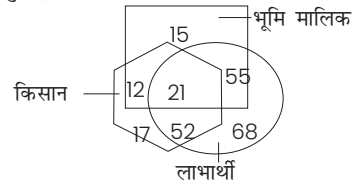
16. (a) प्रश्नानुसार,



डिप्लोमा धारकों विद्यार्थियों की संख्या = 8

अतः विकल्प (a) सही है

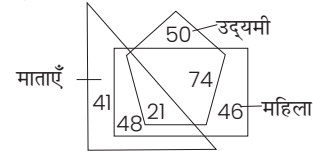
17. (a) प्रश्नानुसार,



किसानों की संख्या (लाभार्थी भूमि मालिक दोनों) = 21

अतः विकल्प (a) सही है

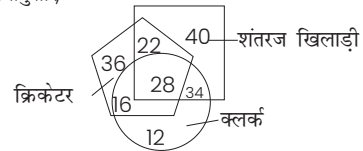
18. (b) प्रश्नानुसार,



महिलाओं की संख्या जो माताएं नहीं उद्यमी है = 74

अतः विकल्प (b) सही है

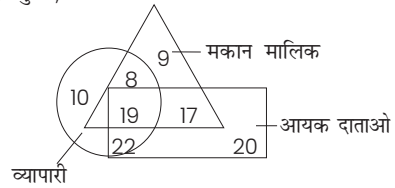
19. (a) प्रश्नानुसार,



क्रिकेटर्स की संख्या (जो शतरंज खिलाड़ी है क्लर्क नहीं) = 22

अतः विकल्प (a) सही है

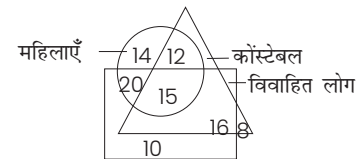
20. (b) प्रश्नानुसार,



व्यापारियों की संख्या कर दाता है लेकिन मकान मालिक नहीं = 22

अतः विकल्प (b) सही है

21. (c) प्रश्नानुसार,



महिला कोस्टेबलों की संख्या जो विवाहित नहीं है = 12

अतः विकल्प (c) सही है